

**Actividad:** Pinta el gráfico según la fracción que se indica.


Sigue el ejemplo:




$$\frac{3}{6}$$




$$\frac{2}{8}$$




$$\frac{5}{8}$$




$$\frac{2}{8}$$




$$\frac{1}{2}$$



$$\frac{3}{4}$$




$$\frac{3}{4}$$



$$\frac{1}{3}$$



$$\frac{4}{9}$$



#### RECOMENDACIONES:

- Este recurso podrá ser impreso o visualizado en dispositivos como: pizarra digital, computador, tableta o celular.
- Puedes realizar esta actividad en cooperación con otros compañeros y compañeras.
- Una vez realizada la actividad, conversar sobre ella con tus compañeros y compañeras.

