

Actividad: Pinta el gráfico según indica la fracción o escribe la fracción correspondiente.

Sabías que...

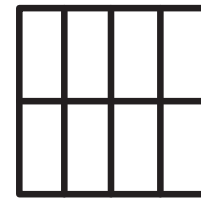
Una fracción se forma de dos términos:

Numerador $\frac{2}{3}$
Denominador


$$\frac{1}{8}$$



$$\frac{4}{8}$$




$$\frac{2}{10}$$




$$\frac{2}{5}$$



$$\frac{1}{10}$$




$$\frac{1}{4}$$




—



—



—



RECOMENDACIONES:

- Este recurso podrá ser impreso o visualizado en dispositivos como: pizarra digital, computador, tableta o celular.
- Puedes realizar esta actividad en cooperación con otros compañeros y compañeras.
- Una vez realizada la actividad, conversar sobre ella con tus compañeros y compañeras.

